

# Measures

CE1

PRÉNOM : .....



① Complète avec les mots « mois », « jours » ou « heures ».

1 année = 12 \_\_\_\_\_ | 1 mois = 28, 29, 30 ou 31 \_\_\_\_\_ | 1 jour = 24 \_\_\_\_\_

② Écris l'heure sous chaque horloge.



\_\_\_\_\_ h \_\_\_\_\_



\_\_\_\_\_ h \_\_\_\_\_



\_\_\_\_\_ h \_\_\_\_\_



\_\_\_\_\_ h \_\_\_\_\_



\_\_\_\_\_ h \_\_\_\_\_



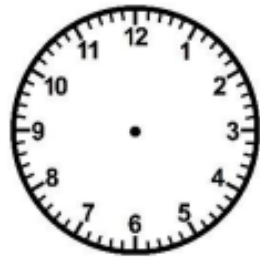
\_\_\_\_\_ h \_\_\_\_\_



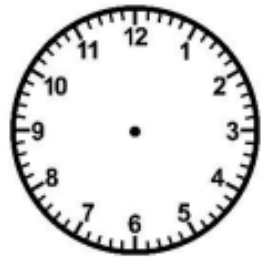
\_\_\_\_\_ h \_\_\_\_\_

③ Trace les aiguilles (rouge pour les heures, bleue pour les minutes).

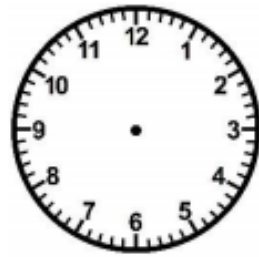
<https://laclassibleve.fr/>



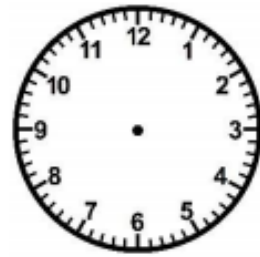
6 h 00



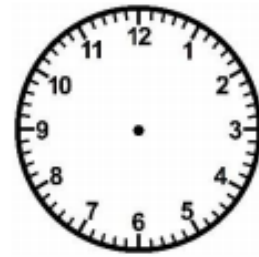
1 h 30



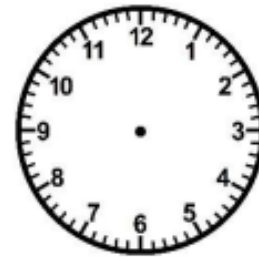
8 h 00



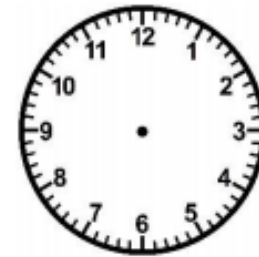
5 h 30



12 h 00



9 h 30



7 h 00