


Écris le nombre qui vient juste avant et celui qui vient juste après.


2



84	85	86	94	90
.....	98	89	87
.....	97	93	81

Cherche le plus grand nombre que tu peux écrire avec 3 étiquettes.


3



quatre	cinq	vingt	trente	vingt	treize	zéro	quatre
quatre-vingt-cinq				85
onze	vingt	soixante	et	cinquante	quinze	vingt	quatre
.....			

Calcule.

4



$80 + 3 = 83$	$80 + 1 = \dots$	$50 + 30 = \dots$
$90 + 7 = \dots$	$90 + 2 = \dots$	$60 + 20 = \dots$
$80 + 4 = \dots$	$80 + 9 = \dots$	$50 + 40 = \dots$
$90 + 1 = \dots$	$90 + 5 = \dots$	$80 + 10 = \dots$